

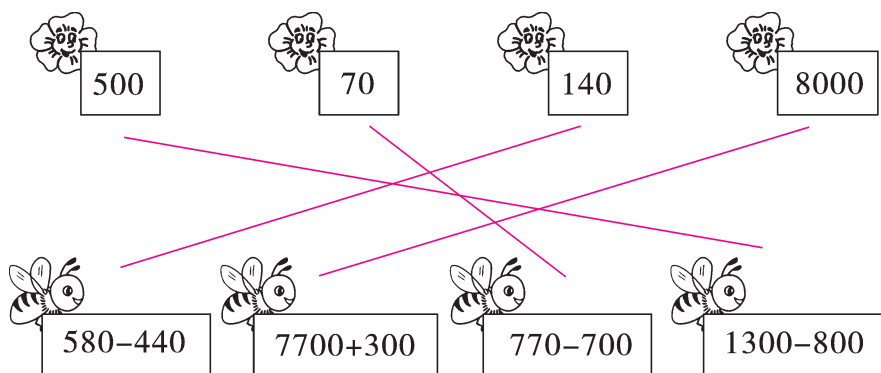
## 达标测试卷

题号	一	二	三	四	五	六	七	八	九	十	十一	总分
得分												


## 一、填一填。(8分)

- 1个2分硬币重1克,1000个2分硬币重( 1 )千克。
- 计量比较轻的物品的质量时,常用( 克 )做单位;计量一般物品的质量时,常用( 千克 )做单位。
- 1袋精盐重500克,( 2 )袋精盐正好是1千克,( 4 )袋精盐重2千克,( 12 )袋精盐重6千克。
- 4500克比4千克多( 500 )克,比5千克少( 500 )克。

## 二、连一连。(4分)



## 三、在括号里填上适当的质量单位。(8分)





6( 千克 )



230( 千克 )



500( 克 )



2( 克 )

#### 四、算一算。(12 分)

$$60 \text{ 千克} + 35 \text{ 千克} = 95 \text{ 千克}$$

$$60 \text{ 千克} - 35 \text{ 千克} = 25 \text{ 千克}$$

$$80 \text{ 克} - 5 \text{ 克} = 75 \text{ 克}$$

$$38 \text{ 千克} - 35 \text{ 千克} = 3 \text{ 千克}$$

$$160 \text{ 千克} + 40 \text{ 千克} = 200 \text{ 千克}$$

$$1 \text{ 千克} - 50 \text{ 克} = 950 \text{ 克}$$

$$27 \text{ 千克} - 9 \text{ 千克} = 18 \text{ 千克}$$

$$600 \text{ 千克} + 350 \text{ 千克} = 950 \text{ 千克}$$

$$4000 \text{ 克} + 3000 \text{ 克} = ( 7000 ) \text{ 克} = ( 7 ) \text{ 千克}$$

$$4600 \text{ 克} - 600 \text{ 克} = ( 4000 ) \text{ 克} = ( 4 ) \text{ 千克}$$

#### 五、按要求排一排。(10 分)

1. 从轻到重排列。

3005 克    2000 克    3 千克    3500 克    2010 克

【答案】2000 克 < 2010 克 < 3 千克 < 3005 克 < 3500 克

2. 从重到轻排列。

6008 克    6 千克    8 千克    6080 克    6018 克

【答案】8 千克 > 6080 克 > 6018 克 > 6008 克 > 6 千克

#### 六、在 ○ 里填上“>”“<”或“=”。(6 分)

$$8000 \text{ 克} ( = ) 8 \text{ 千克}$$

$$5000 \text{ 克} ( > ) 4999 \text{ 克}$$



$$900 \text{ 克} ( < ) 1 \text{ 千克}$$



$$1 \text{ 克} ( < ) 1 \text{ 千克}$$



$$1200 \text{ 克} ( < ) 2 \text{ 千克}$$



$$68 \text{ 千克} ( > ) 6800 \text{ 克}$$

#### 七、算一算,填一填。(10 分)

1. 每只  重 200 克,5 只  重( 1 )千克。

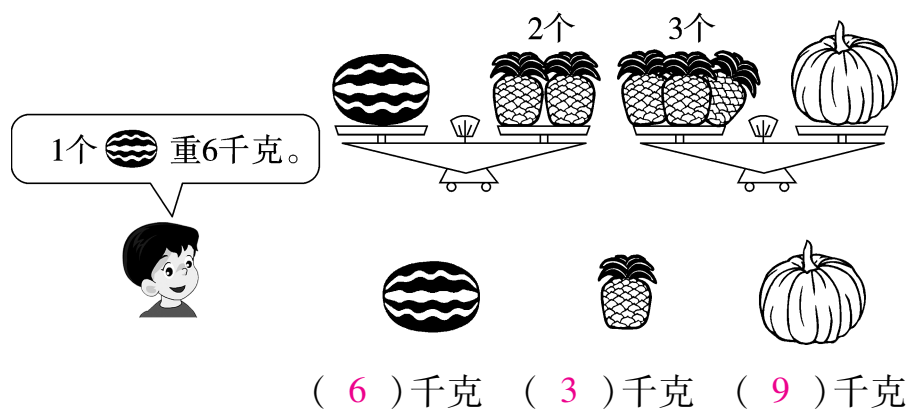
2. 每根  重 100 克, ( 6 ) 根  重 600 克。

3. 每只  重 5 克, 9 只  重 ( 45 ) 克。


4. 每条  重 500 克, ( 6 ) 条  重 3 千克。

5. 比 80 千克少 15 千克的物体重 ( 65 ) 千克。

八、动脑筋,填一填。(6 分)



九、猜一猜,填一填。(9 分)



你知道它们各重多少吗? 将名称填入表中。

2 千克	1800 克	35 千克
小兔	小猫	小鹿

十、用数学。(19 分)

1. 小月比小华重多少千克?(6 分)

我的体重是23千克。



小华

我的体重是26千克。



小月

【答案】 $26-23=3$ (千克)

答:小月比小华重 3 千克。

2. 一箱葡萄的质量是一箱草莓的多少倍?(6 分)

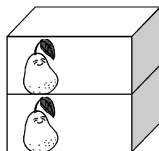



【答案】 $24\div8=3$

答:一箱葡萄的质量是一箱草莓的 3 倍。

3. 平均每箱梨重多少千克?(7 分)


这些梨一共  
重32千克。






【答案】 $32\div4=8$ (千克)

答:平均每箱梨重 8 千克。

十一、(创新题)想一想,填一填。(8 分)



1 只  = ( 4 ) 只 

 = 800 克

 = ( 200 ) 克